



Paul van Loon

Dolfje Weerwolfje

rekenen

7+

Sluit
100% aan
bij school

REKENSPELLETJES



7+

7-9 jaar

leer
beter
rekenen

zwijsen

Sluit aan bij school

lekker lang
puzzelplezier

Stamboom rekenen


Timmie laat Dolfje de stamboom zien van zijn familie. Zo ziet Dolfje wie de ouders en de grootouders van Lucas zijn.

Tip
Twee ringen betekent dat ze getrouwd zijn!

Als je de antwoorden optelt, zie je de leeftijd van een van de ouders of grootouders.

Welke leeftijd heb je gevonden?

Wie is er zo oud geworden?
.....



	Aantal jaren?
Hoe oud is Thomas geworden?	
Hoe lang waren Matteus en Diana getrouwd?	
Hoeveel jaar later dan haar man is Mathilde geboren?	
Hoe oud was Mathilde toen Lucas werd geboren?	
Totaal	

Opa's cijferdans

Opa's dolle hobby is cijferdansen.
Kun jij de sommen oplossen?

Tip
Soms zijn
de verschillen
klein!



$$\text{Grandpa} + \text{Grandpa} + \text{Grandpa} + \text{Grandpa} = \square$$

$$\text{Grandpa} + \text{Grandpa} + \text{Grandpa} + \text{Grandpa} = \square$$

$$\text{Grandpa} + \text{Grandpa} - \text{Grandpa} + \text{Grandpa} = \square$$

Wie is welk getal?

Welk getal moet je invullen bij Dolfje, Noura en Timmie?
Zorg ervoor dat de som klopt!
Elk figuurtje is in iedere som hetzelfde getal.

$$\text{Dolfje} \times 4 = 16$$

$$2 - \text{Timmie} = 0$$

$$\text{Timmie} + \text{Dolfje} + \text{Noura} = 16$$

$$\text{Noura} : \text{Timmie} = 5$$



Ik ben geen 4, 6 of 8,
maar een ...

Sudolfje

In elk vak, in elke kolom en in elke rij mag het cijfer 1, 2, 3, 4, 5 of 6 maar één keer voorkomen. Makkie?

4	1	6			5
		2			1
		1	4	3	6
3	4	5	1		
1			2		
5			6	1	3



Breïnbreker

Welk getal hoort er niet bij?
Kleur dat rondje.



20

36

8

28

12

48

44

16

4

40

24

32

14



Getallenbrj

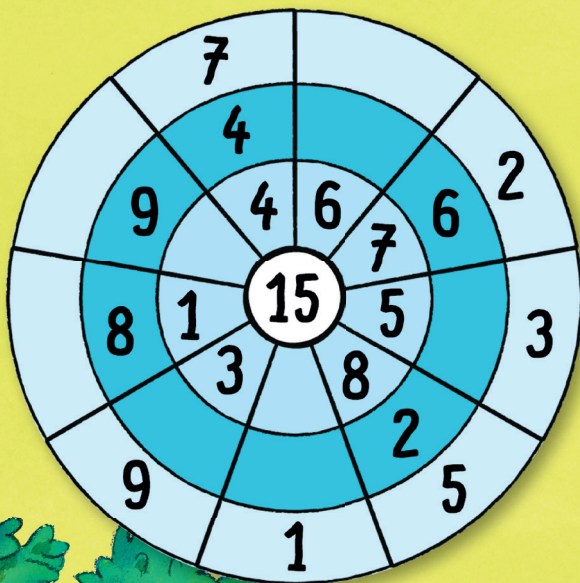
Welke getallen ontbreken in de volgende rijtjes? Vul ze in.

1	2	-	6	-	5	-	9	-	8	-		-		-		-	
2	1	-	2	-	4	-	7	-	11	-		-		-		-	
3	26	-	29	-	27	-	30	-	28	-		-		-		-	
4	2	-	4	-	8	-	16	-		-		-		-		-	
5	10	-	11	-	9	-	10	-	8	-		-		-		-	



Telringen

Deze cirkel heeft drie ringen. In iedere ring komen de cijfers 1 tot en met 9 maar één keer voor. Als je drie cijfers onder elkaar optelt, is de uitkomst steeds 15. De cijfers 1, 2, 3, 4, 5, 6, 7, 8 en 9 ontbreken elk nog één keer. Zet jij ze op de juiste plek?







Boodschappen

Dolfje en zijn vrienden hebben zin in iets lekkers.
Van pa hebben ze 13 euro gekregen. Dolfje heeft zin in pizza,
Timmie wil een zakje frietjes en Noura wil twee pannenkoeken.

Tel op hoeveel dat bij elkaar kost.

1 pizza	€ 5,00
2 pannenkoeken	€ 4,00
1 ijsje met drie bolletjes	€ 1,00
1 ijsje met een bolletje	€ 0,50
1 zak frietjes	€ 2,50
1 schaal lasagne	€ 8,00





Hebben ze genoeg geld om het eten te betalen? Ja / Nee
En kunnen ze alle drie nog een ijsje kopen? Ja / Nee



Zo ja, wat voor ijsje dan?



Ritmisch rekenen!

Welk getal hoort bij welk instrument?

 $+$  $= 16$

 $+$  $= 12$

 \times  $= 8$

 $-$  $= 8$

drumstel =

viool =

tamboerijn =

gitaar =

